

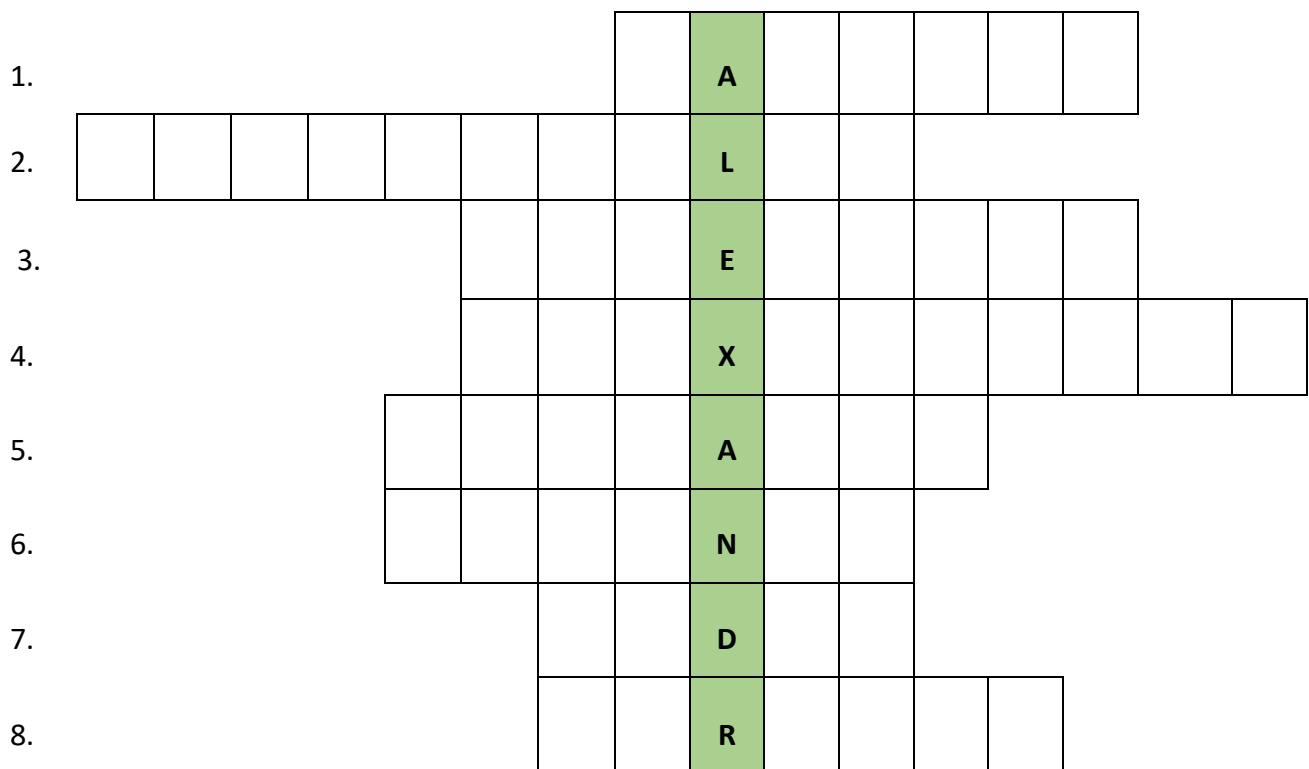
5. května


Ahoj holky a kluci, dnes Vás čekají 2 úkoly, které budete plnit do sešitu.


1. OPAKOVÁNÍ O ALEXANDROVI VELIKÉM:

Překreslete do sešitu tajenku. Doplňte údaje, které byly součástí splnění úkolu minulého týdne:

<https://padlet.com/rotipkova/D6>, jeho splnění mi někteří ještě nepotvrdili!



1. Jak se jmenovalo hlavní město Alexandrovy říše?
2. Který filozof byl Alexandrovým učitelem?
3. V jakém království vládl Filip II.
4. Jak se jmenovala města, která na dobytých územích Alexandr zakládal?
5. K rozhodující bitvě Alexandra s Peršany r. 331 př.Kr.došlo u....?
6. Jak se jmenuje jednotka hoplítů na obrázku? 
7. Do které země chtěl Alexandr pokračovat v dobývání, ale vojáci odmítli jít dál?
8. Ve kterém městě Alexandr rozřal pověstný uzel?



2. STAROVĚKÝ ŘÍM (nadpis do sešitu)

Dnešním cílem bude seznámit se zeměpisnými údaji starověkého Říma. Odpovězte s pomocí mapy na tyto otázky do sešitu (pozorné přečtení mapy Vám odhalí všechny odpovědi).

1. Jak se jmenuje pohoří, podle kterého dostal název celý poloostrov?
2. Převažují v Itálii spíše nížiny, anebo pohoří? Jak se jmenuje nejrozsáhlejší nížina?
3. Které pohoří tvoří přirozenou hranici severní Itálie?
4. Jak se nazývají moře, která omývají břehy Itálie na západě, východě a jihu?
5. Uvedte názvy tří největších ostrovů v blízkosti Itálie?
6. Vyhledejte Kartágo. Ve kterém světadíle leží?



Splnění úkolu mi vyfotíte a pošlete fotku emailem. Zdravím Vás, Radka Otipková