

Hezký den všem osmákům☺

Dnešní hodina je procvičovací. Na dvou úkolech si zopakujete malý zlomek z nervové soustavy.

Nezapomeňte si udělat test na vylučovací a kožní soustavu – kdo ještě neučil.

Chválím ty, kteří si svědomitě plní úkoly, dělají testy a pošlou i vypracovaný zápis.

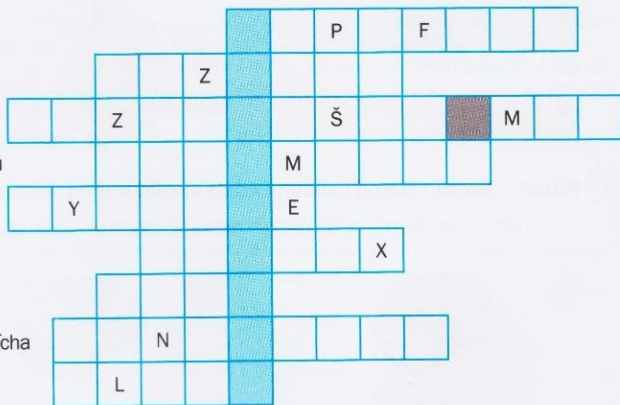
A ještě stále jsou mezi vámi i ti, kteří neudělali trávicí a dýchací soustavu!!!

Prvním úkolem je DOPLŇOVAČKA přepiš do sešitu tímto stylem:

- 1) Podvěsek mozkový = hypofýza
- 2) Centrum rovnováhy =
a stejně i ostatní otázky

Pracuj s knihou na str. 92-93 (u 6. doplnění str. 91).

7 Vysvětli pojem, který získáš vyluštěním křížovky.





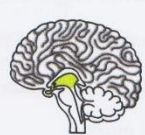
podvěsek mozkový
centrum rovnováhy
tekutina vyplňující mozkové komory
část mozku řídící činnost útrobních orgánů
spojení dvou nervových buněk
odpověď organismu na podráždění
zbarvení mozkové kůry
část nervové soustavy, kam patří mozek a mícha
obal mozku

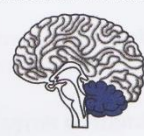


Tajenka:

Druhý úkol:

Napiš do sešitu odpovědi na přiřazování. Pokud netiskneš, stačí jen napsat A: 1. ..., atd. totéž u druhého úkolu: B: 1. ..., 2. ..., atd.

4 **A** pomocí písmen uvedené části mozku k obrázkům a uveď, jaká je funkce těchto částí.
A) prodloužená mícha, B) Varolův most, C) mozeček, D) střední mozek, E) mezimozek, F) koncový mozek

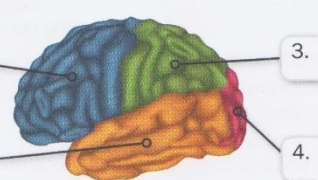
1  **2**  **3** 

4  **5**  **6** 

B Napiš názvy částí koncového mozku.

1. 3.

2. 4.



Toto je pro dnešek všechno. **Mějte se hezky.**