


Dobré ráno milí osmáci 😊

Dnešní hodina je procvičovací. Na dvou úkolech si zopakujete malý zlomek z nervové soustavy.

Nezapomeňte si udělat test na vylučovací a kožní soustavu – kdo ještě neučil.

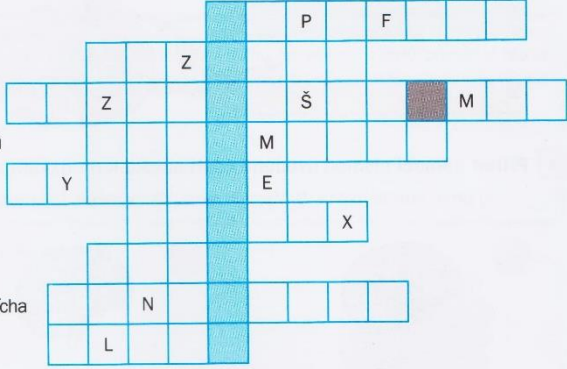
A ještě stále jsou mezi vámi i takoví, kteří neudělali trávicí a dýchací soustavu!!!

1) Prvním úkolem je DOPLŇOVAČKA. Pracuj s knihou na str. 92-93 (u 6. doplnění str. 91).

 **Vysvětli pojem, který získáš vyluštěním křížovky.**

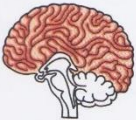


podvěsek mozkový
centrum rovnováhy
tekutina vyplňující mozkové komory
část mozku řídící činnost útrobních orgánů
spojení dvou nervových buněk
odpověď organismu na podráždění
zbarvení mozkové kůry
část nervové soustavy, kam patří mozek a mícha
obal mozku




Tajenka:



2) Napiš do sešitu odpovědi na přiřazování. Pokud netiskneš, stačí jen napsat A: 1. ..., atd. totéž u druhého úkolu: B: 1. ..., 2. ..., atd.

A Přiřaď pomocí písmen uvedené části mozku k obrázkům a uveď, jaká je funkce těchto částí.
A) prodloužená mícha, B) Varolův most, C) mozeček, D) střední mozek, E) mezimozek, F) koncový mozek

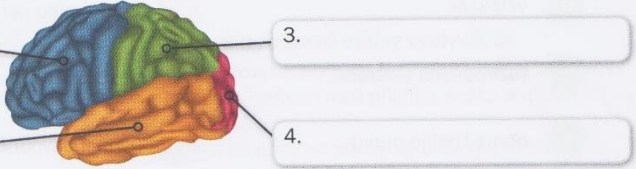
1  2  3 

4  5  6 

B Napiš názvy částí koncového mozku.

1. 3.

2. 4.



Toto je pro dnešek všechno. **Pošlete** nervovou soustavu **ze středy** ke kontrole. **Chválím všechny, kteří své úkoly plní pravidelně, posílají zápisy a plní testy.** 😊 KL