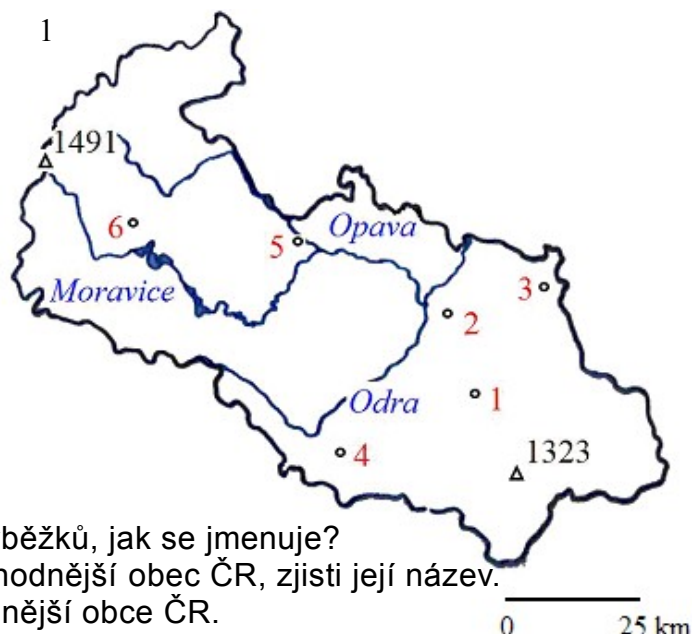


Moravskoslezský kraj



1. Popiš polohu kraje:

- Se kterými kraji a státy sousedí?
- Sever území kraje vyplňuje jeden z výběžků, jak se jmenuje?
- V Moravskoslezském kraji leží nejvýchodnější obec ČR, zjisti její název.
- Urči zeměpisné souřadnice nejvýchodnější obce ČR.

2. Doplň věty, pracuj s atlasem:

Směrem na sever protéká krajem řeka Odra, která odvádí vodu do moře. Z levé strany přibírá řeku Z pravé strany se do Odry vlévá a

Nejvyšší pohoří najdeme v západní části kraje a nazývá se

Směrem k jihovýchodu přechází v

Na východě kraje při hranicích se Slovenskem najdeme

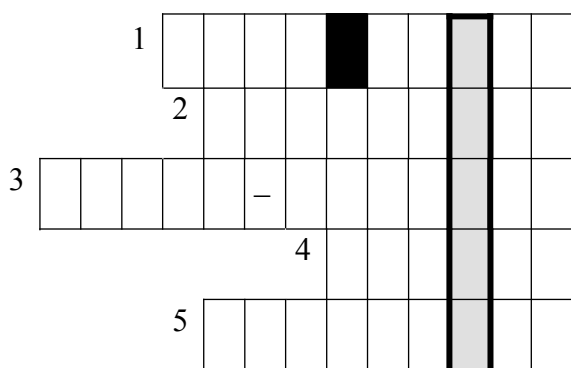
Mezi tato pohoří zasahuje sníženina

Nejrozsáhlejší sníženinou je pánev.

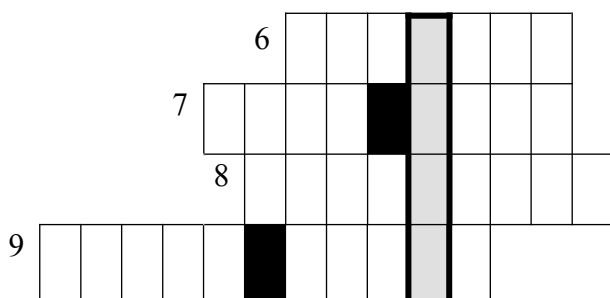
Krajským městem Moravskoslezského kraje a zároveň třetím největším městem ČR je (2)..... s rozvinutým průmyslem, ve kterém převládají tři obory - hutnictví, chemie a strojírenství. Probíhají zde pravidelné hudební festivaly Janáčkův máj. Bývalým hlavním centrem Slezska je (5)..... Centrem černouhelné těžby je (3)....., ve městě působí nejstarší jodobromové lázně - Lázně Darkov. (1)..... vznikl sloučením dvou samostatných měst. Centrum města (4)..... je městskou památkovou rezervací. Vstupní branou do Jeseníků je v kraji město (6)

1 Základem pro vytvoření mapy kraje, za použití programu Notebook, byla mapa v pracovním sešitě:
TUREK, M., TOLMÁČI, L.: *Zeměpisný sešit pro 8. ročník ZŠ Česká republika*. 1. vyd. Praha: Geointer, spol. s r. o., 2001. ISBN 8090283926. s. 72.

3. Pracuj s atlasem, doplň křížovku a zapiš tajenku:



1. Město s tradiční textilní výrobou,
Tonak – výroba klobouků
2. Výroba stavebních hmot
3. Středisko farmaceutické výroby
4. Významné centrum hutnictví
železných kovů
5. Území kraje patří k úmoří
..... moře



6. Hraniční přechod
7. Nejvyšší vrchol Moravskoslezských
Beskyd
8. Hutnictví neželezných kovů
9. Středisko polygrafického průmyslu,
sídí zde firma Didakta vyrábějící
učební pomůcky

TAJENKA: _____