



Co budu dnes potřebovat?

- sešit zeměpisu
- propiska
- obyčejná tužka
- pastelky (modrá, červená)
- školní atlas nebo na internetu

<https://mapy.cz/atlas/>




Odovědi na otázky

1. Pestrost druhů směrem od rovníku k pólům **klesá**.
2. Střídají se vegetační pásma (džungle → polární poušť).
3. Sníh na vrcholu taje.

Uhuru



Sahara



Madagaskar



Viktoriiny vodopády







United States



Europe



China



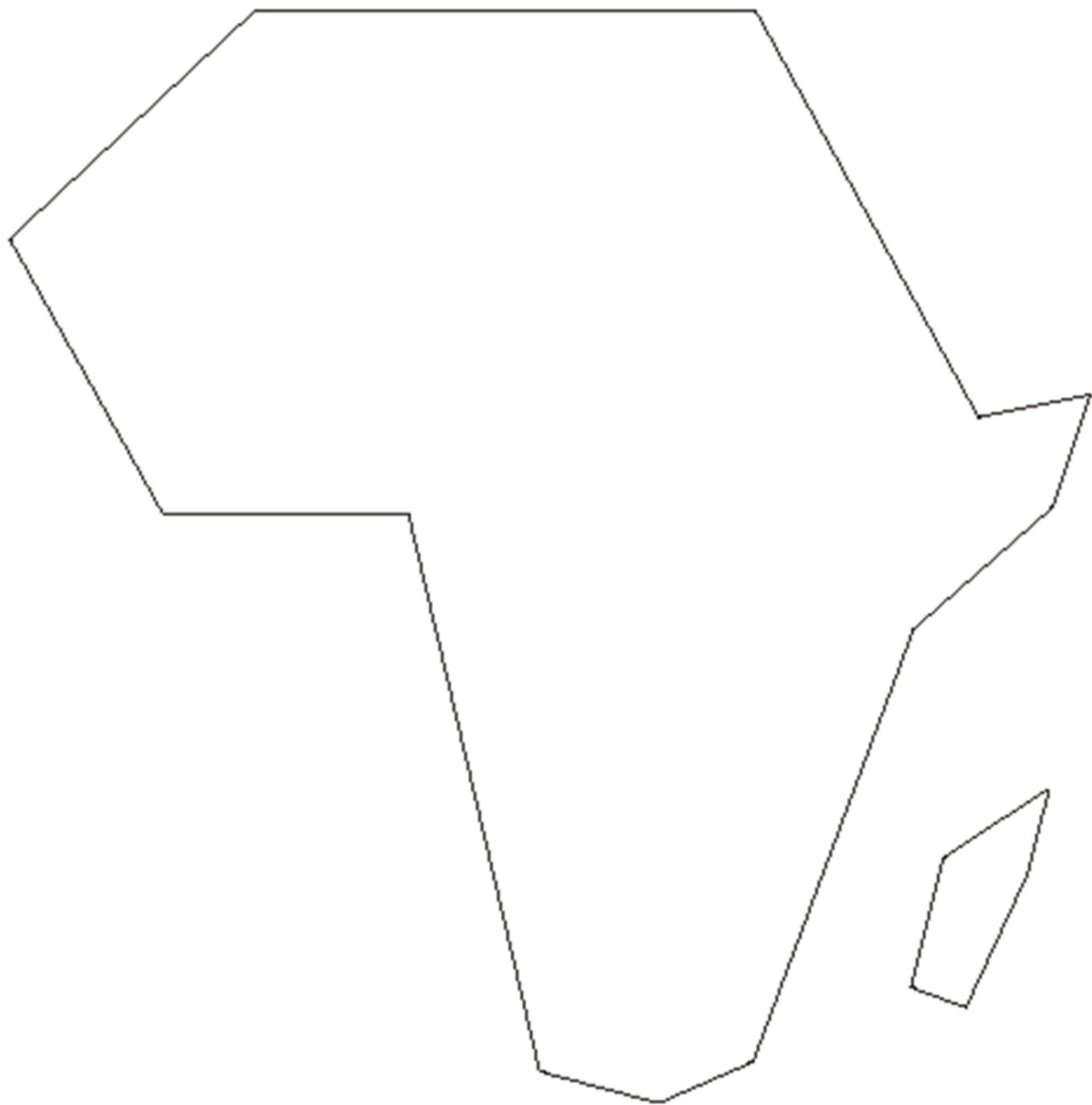
India



Japan







Podle atlasu odpověz na otázky

- Na kterých polokoulích leží Afrika?
- Se kterými dalšími kontinenty sousedí?
- Najdi v mapě okrajové body.



Afrika

- Na kterých polokoulích leží Afrika?
 - na severní, jižní, východní i západní polokouli
- Se kterými dalšími kontinenty sousedí?
 - sousedí s Evropou a Asií
- Najdi v mapě okrajové body.
 - S – Bílý mys
 - Z – Zelený mys
 - J – Střelkový mys
 - V – mys Hafun

Podle atlasu odpověz na otázky - Členitost pobřeží Afriky

Do Indického oceánu zasahuje
poloostrov.

V Indickém oceánu leží 4. největší ostrov světa
..... .

Dalšími ostrovy v Indickém oceánu jsou,
..... a

V Atlantském oceánu leží souostroví a
.....



Členitost pobřeží

Do Indického oceánu zasahuje **Somálský** poloostrov.

V Indickém oceánu leží 4. největší ostrov světa **Madagaskar**.

Dalšími ostrovy v Indickém oceánu jsou **Seychely, Komory a Maskarény**

V Atlantském oceánu leží souostroví **Kapverdy** a **Kanárské ostrovy**.

Do náčrtu mapy zaznač

- rovník, nultý poledník, obratníky Raka a Kozoroha
- Somálský poloostrov
- Mosambický průliv, Guinejský záliv, Gibaltarský průliv a Suezský průplav

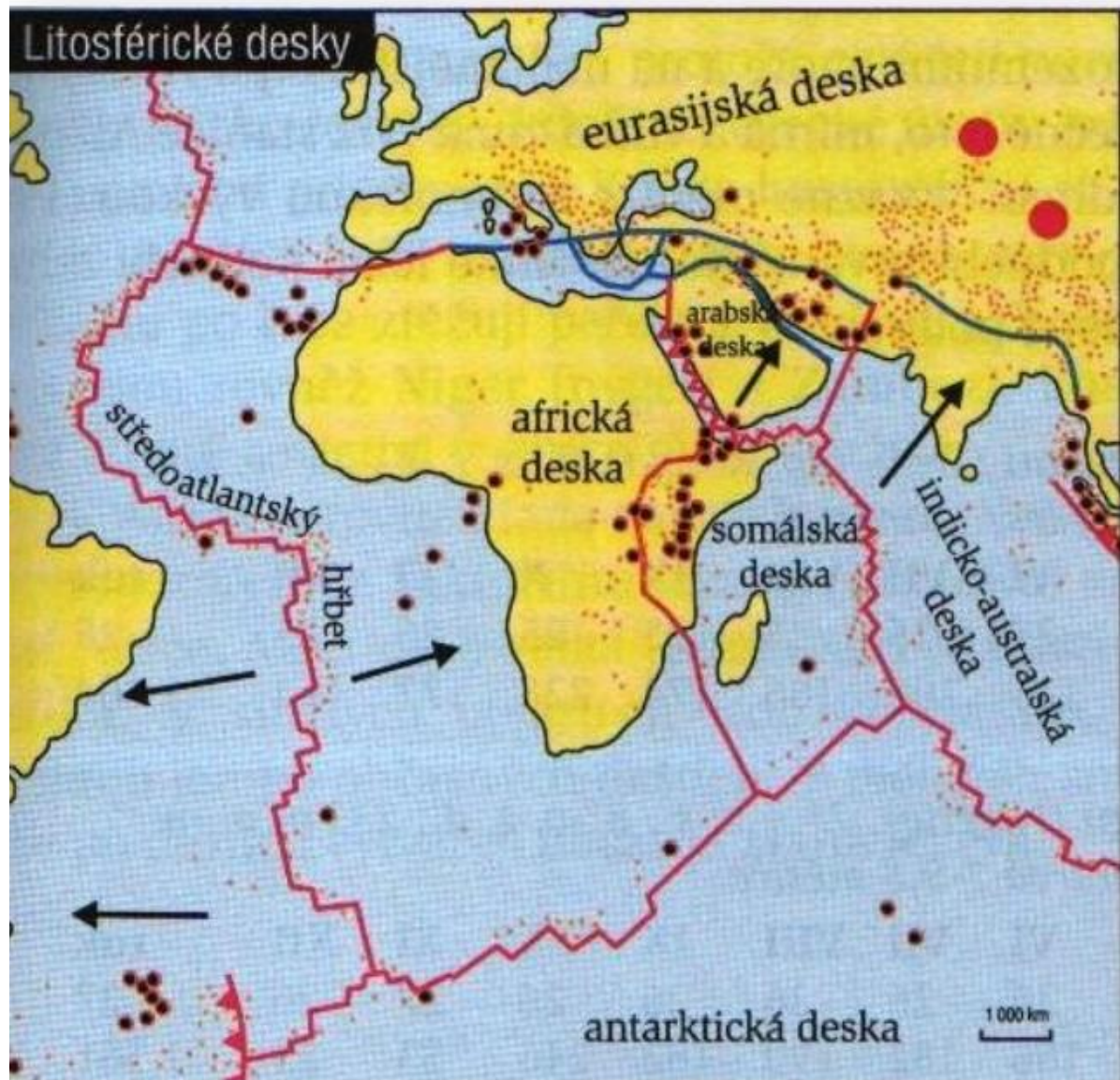


Do náčrtu mapy zaznač

- Atlantský oceán, Indický oceán, Rudé moře, Středozemní moře
- Kanárské ostrovy, Madagaskar, Komory a Seychely



Povrch



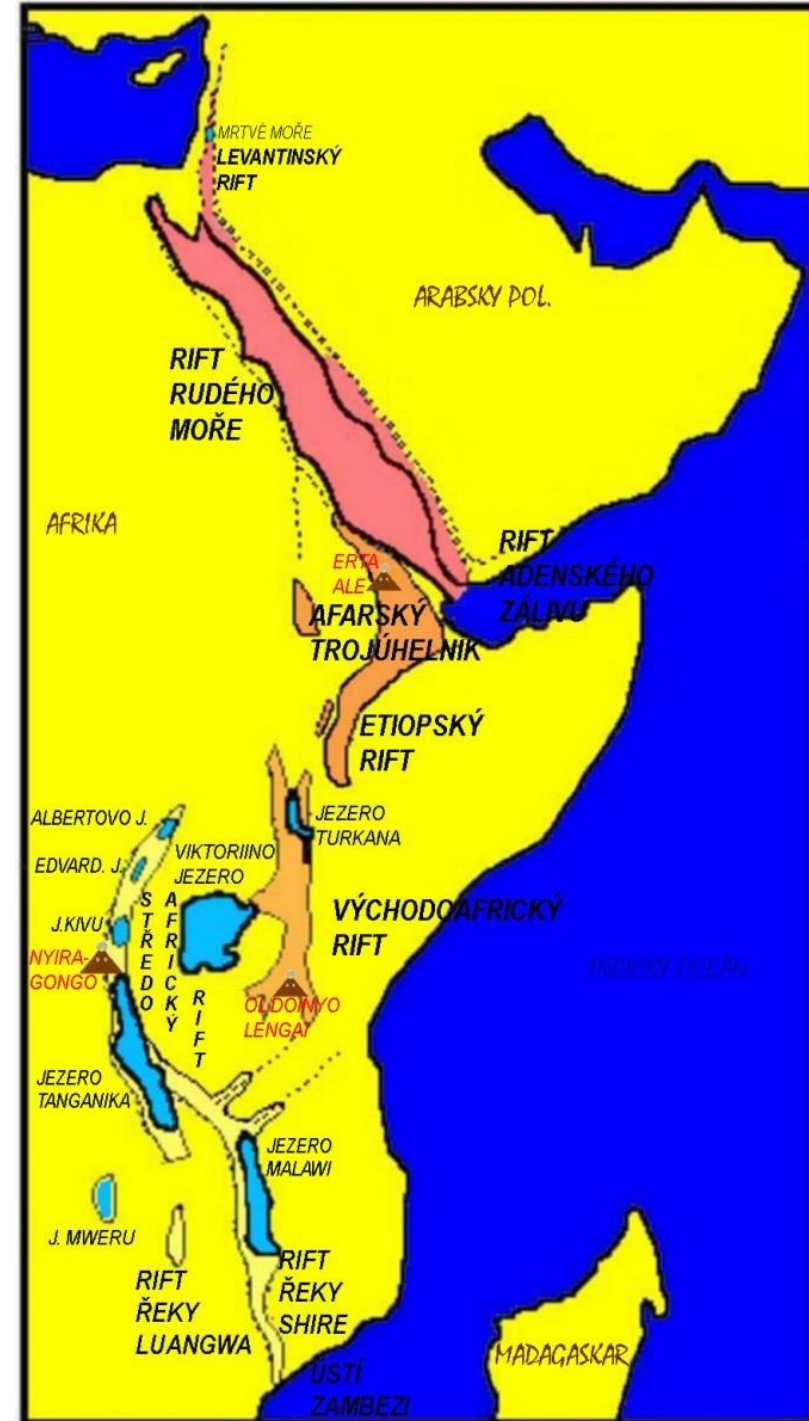
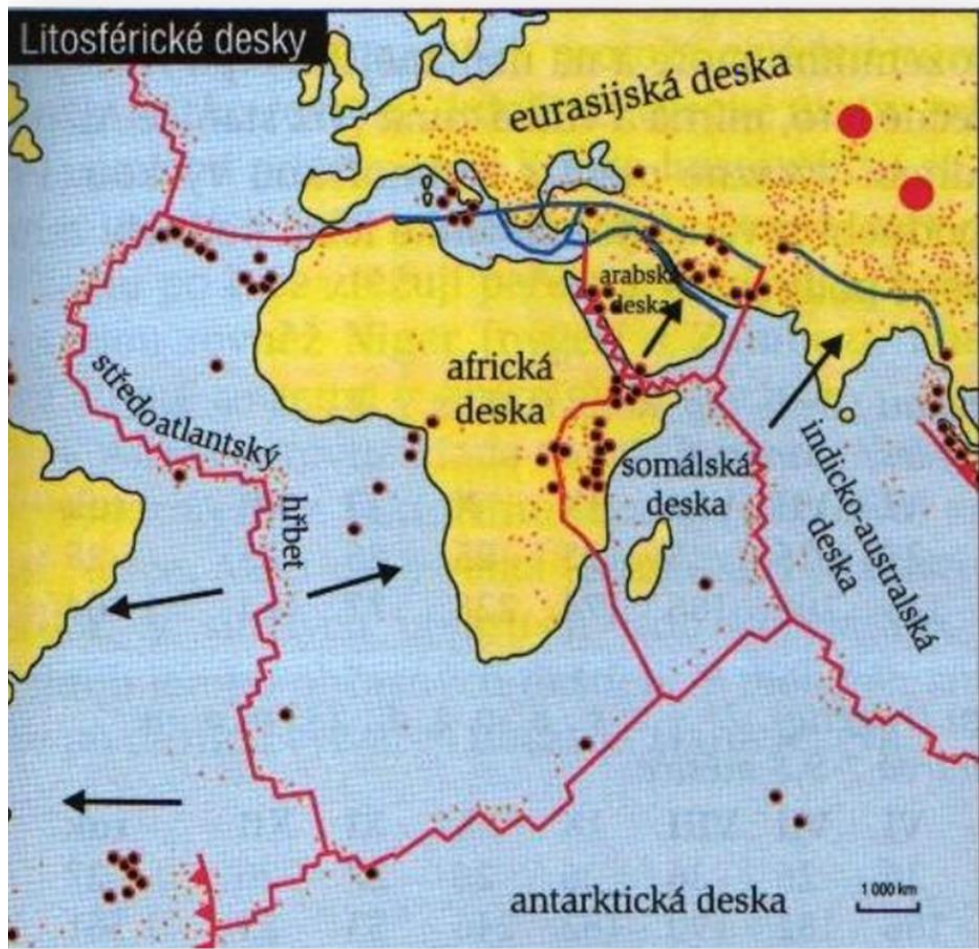
Zápis do sešitu

- rozloha: 30 mil km² (3. největší kontinent)
- Afriku omývá Atlantský a Indický oceán.
- Od Evropy Afriku odděluje Gibraltarský průliv a od Asie Suezský průplav.
- Největším ostrovem je Madagaskar.
- Největší poloostrov je Somálský, největší záliv je Guinejský.



Až dokončíš zápis, tak se vrať na stránky tříd,
rozklikni si dotazníček a odpověz na otázky.

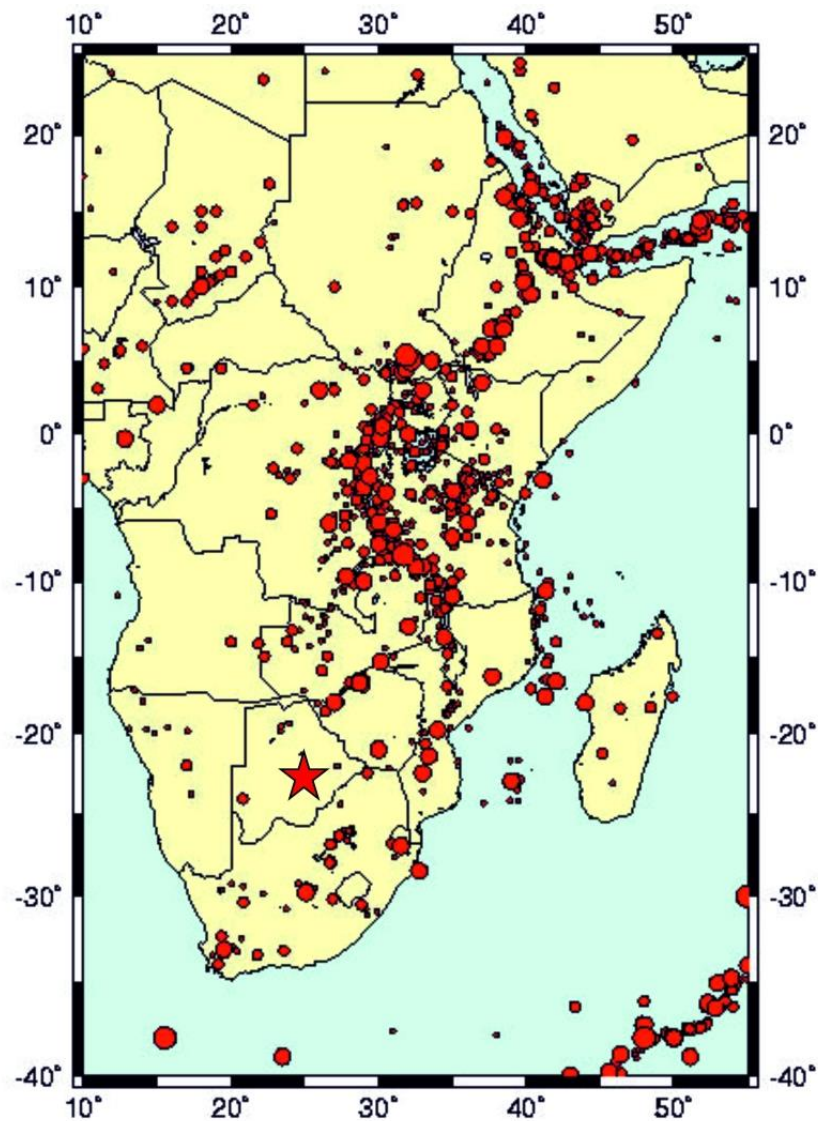
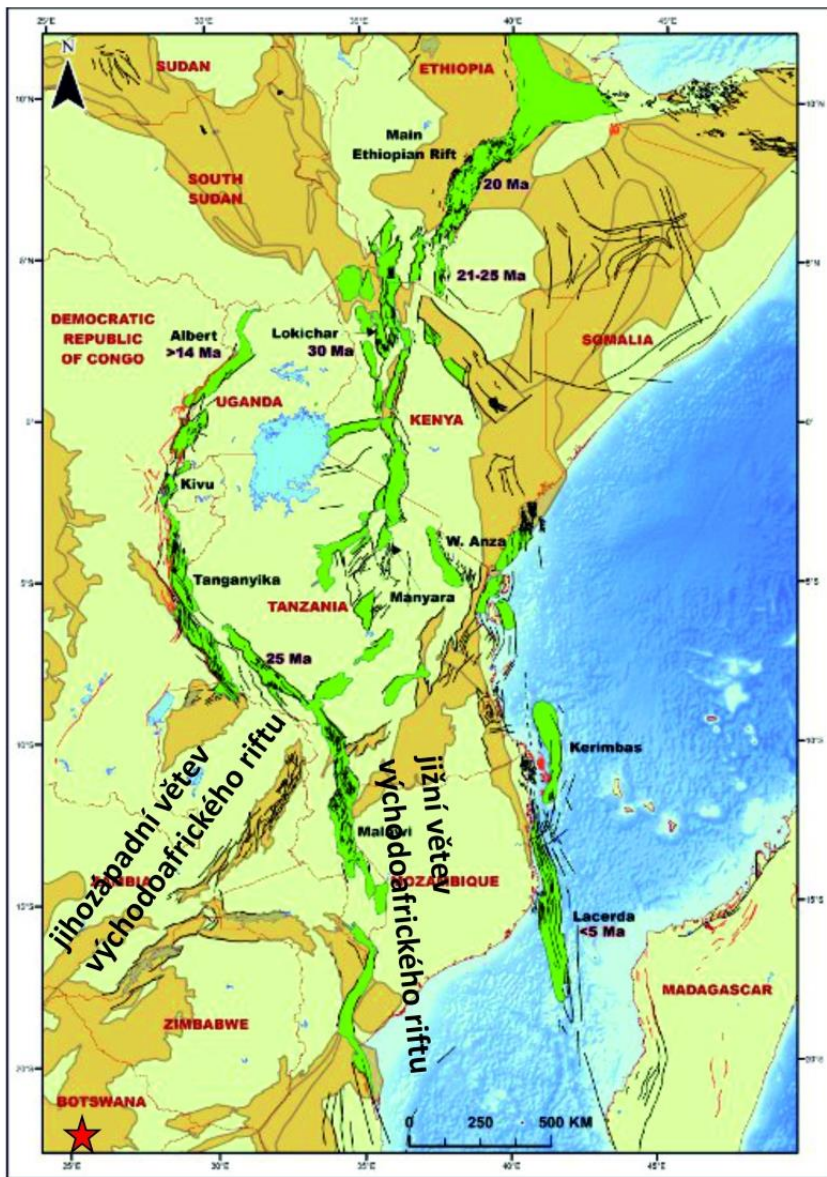
Pro zájemce pokračování v zajímavostech o Africe





- Dvě větve tzv. Východoafrického riftu
- Najdeme zde např.:
 - jezero Malawi
 - jezero Tanganika
 - jezero Kivu
 - jezero Albertovo

.....



Magnitudes: * M=1.0-4.9 ● M=5.0-5.9 ● M=6.0-6.9 ● M=7.0-7.9





Sahara




Typy pouští

- erg – písčité poušť
- serir – štěrkovitá poušť
- hamada – kamenitá poušť



- šotty – slaná vysychající jezera





Pěkný den 😊



Zdroje obrázků

- https://cdn.pixabay.com/photo/2016/02/18/11/49/stop-1207069_960_720.jpg
- https://cdn.pixabay.com/photo/2016/03/31/22/38/africa-1297148_960_720.png
- https://img.blesk.cz/img/1/normal620/4897388_kilimandzaro-cestovani-tanzanie-afrika-hora-kilimanjaro-v0.jpg?v=0
- https://c1.primacdn.cz/sites/default/files/styles/landscape_extra_large/public/c/67/4923965-zastrelil_jsem_slona_viktoriiny_vodopady.jpg?itok=jT2gXcdH&c=def_cloudinary
- https://st3.depositphotos.com/2343333/13544/i/450/depositphotos_135442228-stock-photo-hamada-desert-sahara-in-morocco.jpg
- <https://www.kfilmu.net/obrazky/fanart/madagaskar.jpg>
- <https://www.lejecos.com/photo/art/grande/8885541-14077136.jpg?v=1454415106>
- <https://www.africaguide.com/image/maps/true-size-of-africa-multi.png>
- <https://www.afrikaonline.cz/wp-content/gallery/prostredi/prikove-propadliny-schema.jpg>
- <https://slideplayer.cz/slide/3661142/12/images/3/Dv%C4%9B+v%C4%9Btve+tzv.+V%C3%BDchodoafrick%C3%A9ho+riftu.jpg>
- <https://neveda.cz/web/content/2018/04/new-africa.jpg>
- https://upload.wikimedia.org/wikipedia/commons/thumb/a/a7/Sahara_satellite_hires.jpg/1024px-Sahara_satellite_hires.jpg
- https://thumbs.gfycat.com/GlamorousIlliteratelchneumonfly-size_restricted.gif