



Jméno: _____

1. Babička chystá vnoučkům překvapení do krabičky. Do každé krabičky dává 2

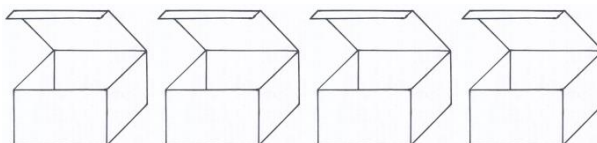


muffiny, 3  jahody a 5  perníkových srdíček. Kolik potřebuje muffinů, jahod a srdíček do 4 takových krabiček?

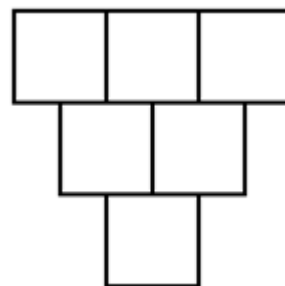
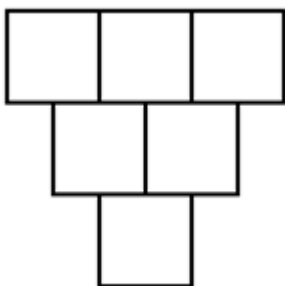
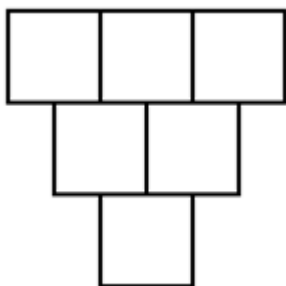
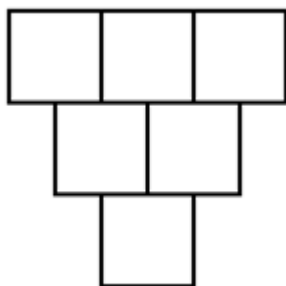
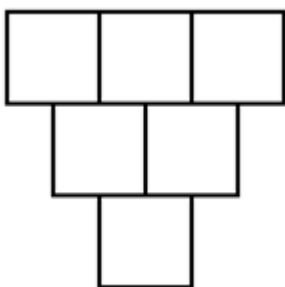
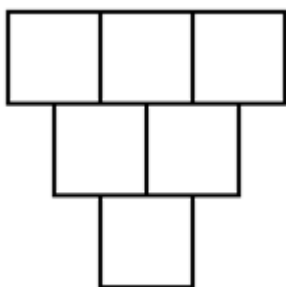
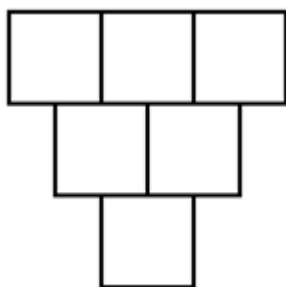








2. Vezmi si kostku a každý hod zaznamenej do prvního řádku, pak vypočítej součtový trojúhelník 😊



Vysvětlení:
Hodila jsem 3, 5, 1:

3	5	1

3. Vypočítej, jak jsou dlouzí hadi, seřaď je od nejdelšího po nejkratšího a pořadí zapiš do čtverečku před nimi.

Anakonda: $5 + 3 - 4 + 6 + 5 - 7 + 2 - 4 = \underline{\hspace{2cm}}$ metrů

Hroznýš: $6 - 4 + 7 + 2 - 10 + 5 - 3 + 4 = \underline{\hspace{2cm}}$ metrů

Krajta: $2 + 5 + 10 - 6 - 4 + 3 - 2 - 4 = \underline{\hspace{2cm}}$ metrů