


NA VÝLETĚ

Novákovi využili prodloužený víkend k návštěvě některých vrcholů Moravsko-slezských Beskyd, a protože byli malí Novákovi uvolněni ze školy, dával jim tatínek všelijaké úkoly k procvičení učiva. Sestavil plánec s cíli výletu a každou chvíli pravil:



„Seřaďte vrcholy podle nadmořské výšky od nejvyšší po nejnižší. Zaokrouhlete jejich výšku.“

výška vrcholu	zaokrouhlena na desítky	zaokrouhlena na stovky	zaokrouhlena na tisíce	pořadí
Kozubová				
Malá Prašivá				
Kozinec				
Malá Kykula				

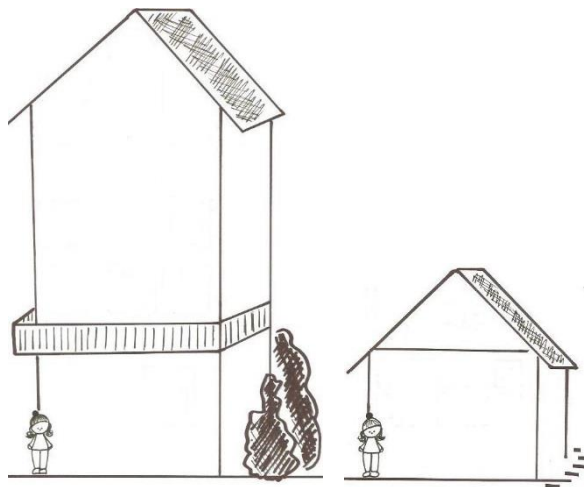
„Doplňte, o kolik je vyšší.“

Kozubová od Kozince	Malá Kykula od Malé Prašivé	Malá Prašivá od Kozince	Kozubová od Malé Kykuly	Malá Kykula od Kozince	Kozubová od Prašivé
982 – 645					


„Vymyslete název a výšku pátého kopce na pláncu tak, aby splňoval následující:“

Kopec X je vyšší než Kozinec a nižší než Malá Prašivá. Jeho výška má stejný počet stovek, desítek a jednotek. Název kopce je příbuzným slovem ke slovu Prašivá.

„Odhadněte podle výšky naší maminky, která měří 150, cm výšku horských chat.“



„Zapište, co by se v okolí dalo měřit v metrech.“



„Pokuste se převést výšku obou budov na metry.“

„Děti, zkrat' me si čekání na oběd a ...“

Polévka	Kč	Hlavní chod	Kč	Moučník	Kč
Česneková	37	Kuřecí maso s rýží	99	Indiánek	19
Čočková	44	Krůtí maso s těstovinami	119	Ovocný řez	31
Kuřecí	39	Segedínský guláš	108	Věneček	28
Zeleninová	26	Svíčková s knedlíkem	134	Větrník	36

... spočítejme, kolik zaplatíme, když si koupíme čtyři čočkové polévky.“



„Tatínku, to je příliš jednoduché,“ přidala se maminka. „Spočítejme, kolik zaplatíme, když si objednáme čtyřikrát čočkovou polévku, dvakrát segedínský guláš, dvakrát svíčkovou a po jednom ze všech uvedených moučníků.“

Poznáte, kolik členů má Novákova rodina?

Sestavte menu bez moučniku pro každého tak, aby tatínek nezaplatil více než 500 Kč?