













Jméno: _____

1. Místo obrázků patří čísla, napiš, jakou hodnotu mají obrázky, a do prázdných okýnek dopiš jejich součet.

			3
			4
			
5		4	

 = _____

 = _____

 = _____

2. a) Na houpačce se houpou 3 zvířátka (vůbec nezáleží, jak jsou ve skutečnosti velká a těžká 😊), rozhodni, které zvířátko si sedne na poslední volné místo, aby byli stejně těžcí.

1. houpačka:   = 

2. houpačka:  =   

3. houpačka:   = _____

Zakroužkuj zvířátko, které sedí na volném místě:



2. b) Zakroužkuj modrou pastelkou nejtěžší zvířátko a žlutou pastelkou to nejlehčí 😊



2. c) Zjisti z encyklopedie nebo internetu, které zvíře (z těch našich tří) je ve skutečnosti nejtěžší.

Nejtěžší je _____ váží asi _____.